

1.1 تذكير :

المعامل الموجه و متجهة موجهة لمستقيم

لنعتبر المستقيم (AB) المار من A(1,2) و B(3,6)

المعامل الموجه هو $m = \frac{y_B - y_A}{x_B - x_A} = \frac{6 - 2}{3 - 1} = 2$

متجهة موجهة هي $\vec{u} \begin{pmatrix} 1 \\ m \end{pmatrix} = \vec{u} \begin{pmatrix} 1 \\ 2 \end{pmatrix}$

معادلة ديكارتية ل (AB) هي على شكل : $(AB) : y = m(x - x_A) + y_A$

وكذلك : $(AB) : y = m(x - x_B) + y_B$

ومنه معادلة ديكارتية ل (AB) هي : $(AB) : y = 2(x - 1) + 2 = 2x$

أو أيضا : $(AB) : y = 2(x - 3) + 6 = 2x$

2. السرعة المتوسطة :

عندما تكون المسافة d التي يقطعها جسم متحرك معبر عنها بدلالة الزمن t .

لدينا : المسافة d التي قطعها هذا الجسم في اللحظة t هي : $d(t) = f(t)$

السرعة المتوسطة :

السرعة المتوسطة هي سرعة هذا الجسم بين اللحظة t_1 و اللحظة t_2 هي $V_m[t_1, t_2] = \frac{\Delta d}{\Delta t} = \frac{d(t_2) - d(t_1)}{t_2 - t_1} = \frac{f(t_2) - f(t_1)}{t_2 - t_1}$

أي معدل تغيرات الدالة d أو الدالة f بين t_1 و t_2 .

مثال :

نفترض أن المسافة التي يقطعها جسم متحرك معبر عنها بدلالة الزمن t هي معطاة بالدالة $d(t) = f(t) = 10t^2$ حيث d معبر عنها ب

km و t ب h (بالساعة) .

نحسب السرعة المتوسطة للجسم المتحرك بين $t_1 = 1h$ و $t_2 = 2h$.

لدينا : $V_m[t_1, t_2] = V_m[1, 2] = \frac{\Delta d}{\Delta t} = \frac{d(2) - d(1)}{2 - 1} = \frac{f(2) - f(1)}{2 - 1} = \frac{40 - 10}{1} = 30 \text{ km/h}$

ملحوظة :

الفزيانيون :

يعبر عن تغيرات ب Δ .

مثال تغيرات بين الأفضولين x_1 و x_2 ب : $\Delta x = x_2 - x_1$. تغيرات بين الأرتوبين $y_1 = f(x_1)$ و $y_2 = f(x_2)$ ب : $\Delta y = y_2 - y_1$

يعبر عن تغيرات جد صغيرة ب d

مثال : نعتبر $x_2 = x_1 + h$ إذن $\Delta x = h$ و نعتبر h تؤول إلى 0 . في هذه الحالة نكتب dx بدلا من Δx

3. تمهيد :

أ- التمهيد الأول :

قطعت عداء مسافة 5 كلم في ظرف 10 دقائق . ماذا يمثل المقدار 30 km/h بالنسبة لهذا العداء ؟

30 دقيقة كانت كافية لملء صهريج حجمه 3 m^3 . ماذا يمثل المقدار 100 l/min ؟

قطعت سيارة مسافة 200 km في ظرف ساعتين . ماذا يمثل المقدار 100 km/h ؟

رصاص صيد قطعة مسافة 300 m في ظرف $8 \cdot 10^{-4} \text{ s}$. ماذا يمثل المقدار 375 m/s ؟

ب- التمهيد الثاني :



- بعد مرور 10 ثواني من انطلاق السباق كانت سرعة العداء 35 km/h . ماذا يمثل المقدار 35 km/h بالنسبة للعداء؟
- بعد مرور 20 s من بدء ملء الصهريج كان صبيب الماء هو : 80 l/min .
- أثناء اصطدام سيارة بشجرة كانت السرعة 120 km/h . ماذا يمثل المقدار 120 km/h بالنسبة للسيارة ؟
- السرعة البدئية لانطلاق رصاصة صيد كانت 600 m/s . ماذا يمثل المقدار 600 m/s بالنسبة للرصاصة ؟
- أثناء إصابة الإوزة بالرصاصة كانت السرعة 300 m/s . ماذا يمثل المقدار 300 m/s بالنسبة للرصاصة ؟

II. اشتقاق دالة في نقطة $A(x_0, f(x_0))$ أو أيضا النقطة التي أفصولها x_0 (نقول باختصار النقطة x_0) :

A. اشتقاق دالة في نقطة x_0 :

1. نشاط :

سيارة سباق تصل سرعتها 360 km/h خلال 10 s نفترض أن التسارع (l' accélération) ثابتة ؛ وهذا يطبق على السائق دافعة

أفقية تساوي وزنه ؛ حيث حركة سيارته متغيرة بانتظام ومحددة بالدالة

الزمنية $d_t = f(t) = 5t^2$ ؛ (حيث t هي المدة الزمنية بالثانية

$d_t = f(t)$ المسافة التي قطعها السيارة بالمتربعد مرور t ثانية).

الهدف هو حساب سرعة المتسابق بعد 3 s .

1. ماهي المسافة التي قطعها سيارة المتسابق بعد 10 s ؟

2. مثل مبيانيا d_t بدلالة t .

3.

أ- أعط الصيغة التي تعطي $V_m [3, 3+h]$ السرعة المتوسطة

لسيارة المتسابق بين اللحظتين 3 و $3+h$:

ب- أحسب السرعة المتوسطة من أجل h في الجدول التالي (en m/s) .

0,0001	0,001	0,01	0,1	1	h
.....	$V_m(3, 3+h)$

4. من خلال الجدول ماهي القيمة التي يأخذها V_m عندما h يصبح صغيرا جدا ؟ ثم عبر عن ذلك باستعمال الرموز .

5. ماذا تمثل هذه الكمية في الفيزياء ؟

6. أ- بصفة عامة نأخذ x_0 بدلا من 3 ؛ أعط الكتابة لهذه الكمية ب- نضع : $x = 2+h$ اكتب النهاية السابقة باستعمال المتغير x .

2. مفردات:

العدد $l = \lim_{h \rightarrow 0} \frac{f(3+h) - f(3)}{h}$ (أو أيضا العدد $l = \lim_{x \rightarrow 3} \frac{f(x) - f(3)}{x - 3}$) يسمى السرعة اللحظية للجسم في اللحظة $t = 3$ ويسمى

العدد المشتق للدالة f في النقطة $t = 3$ ويرمز له ب $l = f'(3)$ أو أيضا $l = \frac{df}{dx}(3)$. نكتب $l = f'(3) = \lim_{h \rightarrow 0} \frac{f(3+h) - f(3)}{h}$

(أو أيضا $l = f'(3) = \lim_{x \rightarrow 3} \frac{f(x) - f(3)}{x - 3}$)

3. بصفة عامة:



نأخذ x_0 بدل 2 نحصل على : $\lim_{h \rightarrow 0} \frac{f(x_0+h) - f(x_0)}{h} = f'(x_0)$ مع $f'(x_0)$ عدد حقيقي .

نضع $x = x_0 + h$ نحصل على $x \rightarrow x_0$ بدل $h \rightarrow 0$ ومنه : $\lim_{x \rightarrow x_0} \frac{f(x) - f(x_0)}{x - x_0} = f'(x_0)$

إذا كانت النهاية منتهية نقول إن : الدالة f قابلة للاشتقاق في x_0 .

أعط تعريف : للدالة f قابلة للاشتقاق في النقطة x_0 .

4. تعريف :

f دالة عددية معرفة على مجال مفتوح I يحتوي على x_0 . (أو $]x_0 - \alpha, x_0 + \alpha[$)
نقول إن الدالة f قابلة للاشتقاق في النقطة x_0 إذا وجد عدد حقيقي ℓ حيث : $\lim_{x \rightarrow x_0} \frac{f(x) - f(x_0)}{x - x_0} = \ell$

ℓ يسمى العدد المشتق ل f في x_0 ونرمز له ب $f'(x_0)$.

نكتب $\lim_{x \rightarrow x_0} \frac{f(x) - f(x_0)}{x - x_0} = \ell = f'(x_0)$ أو أيضا $\lim_{h \rightarrow 0} \frac{f(x_0+h) - f(x_0)}{h} = \ell = f'(x_0)$

5. ملحوظة :

• $v(t_1)$ السرعة اللحظية في اللحظة t_1 هي $v(t_1) = \lim_{h \rightarrow 0} \frac{d(t_1+h) - d(t_1)}{(t_1+h) - t_1} = f'(t_1)$ (بشرط أن تكون النهاية منتهية)

أو أيضا : العدد المشتق في t_1 للدالة d (الدالة f) . أو أيضا : $v(t_1) = d'(t_1) = f'(t_1)$.

• مثال :

نفترض أن المسافة التي يقطعها جسم متحرك معبر عنها بدلالة الزمن t هي $d(t) = f(t) = 10t^2$ حيث d معبر عنها ب km و t ب h (بالساعة) .

نحسب السرعة اللحظية للجسم المتحرك في $t_1 = 1h$.

الطريقة 1 :

لدينا :

$$\begin{aligned} \lim_{h \rightarrow 0} v_m[t_1, t_1+h] &= \lim_{h \rightarrow 0} v_m[1, 1+h] = \lim_{h \rightarrow 0} \frac{d(1+h) - d(1)}{(1+h) - 1} = \lim_{h \rightarrow 0} \frac{f(1+h) - f(1)}{h} \\ &= \lim_{h \rightarrow 0} \frac{10(1+h)^2 - 10}{h} = \lim_{h \rightarrow 0} \frac{10h^2 + 20h}{h} = \lim_{h \rightarrow 0} 10h + 20 = 20 \end{aligned}$$

• خلاصة : السرعة اللحظية في اللحظة $t_1 = 1h$ هي $v(t_1) = 20 \text{ km/h}$

الطريقة 2 :

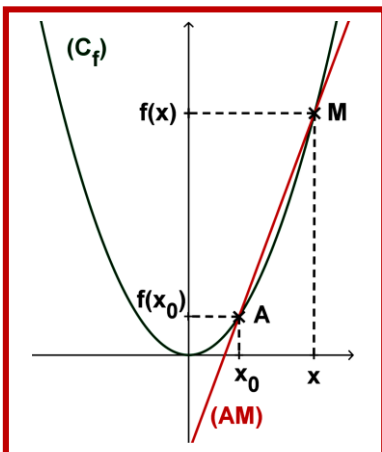
لدينا : $d(t) = f(t) = 10t^2$ ومنه السرعة اللحظية في اللحظة $t_1 = 1h$ هي :

$$v(t_1) = d'(t_1) = f'(t_1) = (10t^2)'_{(t=1)} = (20t)_{(t=1)} = 20 \times 1 = 20$$

• **B.** التأويل الهندسي للعدد المشتق - مماس لمنحنى دالة في نقطة :

1. نشاط :

• x_0 . f . (C_f) من المنحنى f قابلة للاشتقاق في النقطة A أي $M \begin{pmatrix} x \\ f(x) \end{pmatrix}$ و $A \begin{pmatrix} x_0 \\ f(x_0) \end{pmatrix}$



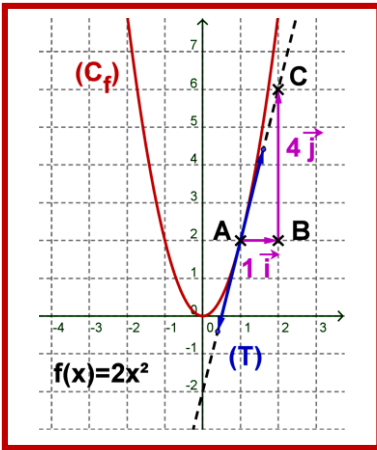


- 1) أعط المعامل الموجه ل (AM) و متجهة موجهة ل (AM) .
- 2) عندما X تؤول إلى X_0 ما هو الوضع الذي يأخذه المستقيم (AM) ؟ وحدد معامل الموجه.
- 3) أعط المعادلة المختزلة للمماس (T) ثم استنتج المعادلة الديكارتية للمماس (T) .

2. خاصية:

- لتكن f دالة قابلة للاشتقاق في النقطة X_0 و (C_f) منحنى f في معلم $(O; \vec{i}; \vec{j})$.
- العدد المشتق $f'(X_0)$ هو المعامل الموجه للمستقيم (T) المماس لمنحنى الدالة f في النقطة $A \left(\begin{matrix} X_0 \\ f(X_0) \end{matrix} \right)$ (أي النقطة X_0)
 - معادلة المماس ل (C_f) في $A \left(\begin{matrix} X_0 \\ f(X_0) \end{matrix} \right)$ هي : $(T): y = (x - X_0)f'(X_0) + f(X_0)$

3. مثال :

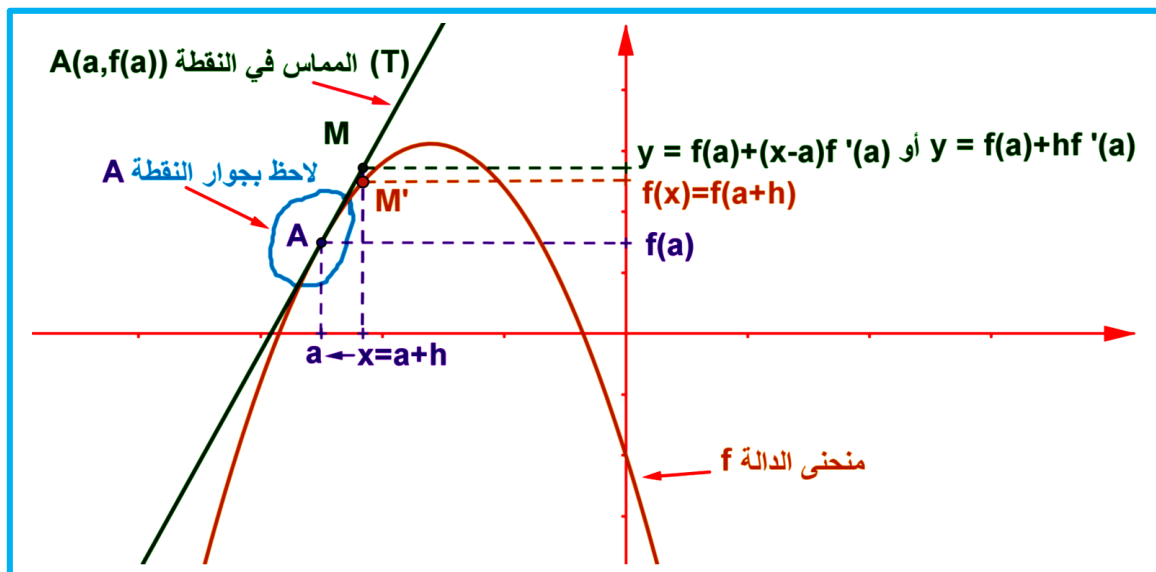


- أوجد معادلة المماس (T) ل (C_f) في النقطة $X_0 = 1$ مع $f(x) = 2x^2$.
- المعادلة هي $(T): y = (x-1)f'(1) + f(1)$ أي $(T): y = (x-1) \times 4 + 2$
- إذن المعامل الموجه هو $m = 4$ و متجهة موجهة له هي : $\vec{u}(1,4) = 1\vec{i} + 4\vec{j}$.
- انطلاقا من $A(1, f(1))$ مع $f(1) = 2$
- ننشئ النقطة B حيث : $\vec{AB} = \vec{i}$. ننشئ النقطة C حيث : $\vec{BC} = 4\vec{j}$.
 - ومنه المستقيم (AC) هو المماس (T) ل (C_f) في A .
 - لرسم المماس يكفي إن نرسم قطعة منتصفها A و في كل طرف نضع سهم .

C. تقريب دالة قابلة للاشتقاق في نقطة بدالة تألفية . (أو التقريب الرقمي *interprétation numérique*)

1. ملحوظة :

- تقريب تألفي لدالة f عند النقطة a هو إيجاد دالة تألفية $g(x) = mx + p$ تكون بالتقريب تساوي الدالة f(x) بجوار النقطة $A(a, f(a))$ أو أيضا : $f(x) \approx mx + p$. نعم أنه بجوار $A(a, f(a))$ المنحنى (C_f) و المماس (T) للمنحنى في هذه النقطة يتقاربان جدا .



- نعتبر النقطة $M(x, f(x))$ من (C_f) منحنى الدالة f ؛ ثم النقطة $M'(x, y)$ من المماس (T) للمنحنى الدالة f في النقطة a .



نلاحظ : في النقطة $A(a, f(a))$ منحنى الدالة f يقترب من المماس (T) للمنحنى الدالة f .

- عندما x تقترب من a (أي نضع $x = a + h$ مع $h \rightarrow 0$) وفي هذه الحالة فإن النقطة M تقترب من النقطة M' ومنه الأرتوبين ل M و M' يقتربان من نفس القيمة ومنه : $f(a+h) \approx y$ أي : $f(a+h) \approx f(a) + hf'(a)$

2. تعريف :

لنكن f دالة قابلة للاشتقاق في a من I .

- الدالة $u : x \rightarrow f(a) + (x-a)f'(a)$ (أو الدالة $v : h \rightarrow f(a) + hf'(a)$) تسمى الدالة التآلفية المماسية للدالة f في النقطة a .
- عندما x تقترب جدا من a العدد $f(a) + (x-a)f'(a)$ هو تقريب تآلفي ل $f(x)$ بجوار a و نكتب : $f(x) \approx f(a) + (x-a)f'(a)$
- أو أيضا العدد $f(a) + hf'(a)$ هو تقريب تآلفي ل $f(a+h)$ بجوار الصفر و نكتب (مع $x-a=h$) $f(a+h) \approx f(a) + hf'(a)$.

3. أمثلة :

أ- مثال 1 :

أوجد تقريب تآلفي للعدد $f(1+h)$ مع $f(x) = x^2$ و $a=1$

f دالة قابلة للاشتقاق في النقطة 1 مع $f'(1) = 2$ التقريب التآلفي للعدد $f(1+h)$ هو $f(1+h) \approx hf'(1) + f(1) \approx 2h + 1$

خلاصة : $f(1+h) = (1+h)^2 \approx 2h + 1$

• **تطبيق للنتيجة :**

- نأخذ $h = 0,001$ $f(1,001) = f(1+0,001) \approx 2 \times 0,001 + 1$ ومنه : $f(1+0,001) \approx 1,002$

- نتحقق : $f(1,001) = (1,001)^2 = 1,002001$ إذن : $1,002 \approx 1,002001$

- **تقنية حساب :** $(1+h)^2$ مع h قريبا جدا من 0 نحسب $2h + 1$.

ب- مثال 2 :

أوجد تقريب تآلفي للعدد $\sqrt{9,002}$.

نضع $f(x) = \sqrt{x}$ و $a=9$ و $h = 0,002$ ومنه : $\sqrt{9,002} = f(9+0,002)$

1. نحسب العدد المشتق ل f في 9.

$$\lim_{h \rightarrow 0} \frac{f(9+h) - f(9)}{h} = \lim_{x \rightarrow 9} \frac{f(x) - f(9)}{x - 9} = \lim_{x \rightarrow 9} \frac{\sqrt{x} - 3}{x - 9} = \lim_{x \rightarrow 9} \frac{\sqrt{x} - 3}{(\sqrt{x} - 3)(\sqrt{x} + 3)} = \lim_{x \rightarrow 9} \frac{1}{\sqrt{x} + 3} = \frac{1}{6} \in \mathbb{R}$$

إذن قابلة للاشتقاق في 9 و العدد المشتق في 9 هو $f'(9) = \frac{1}{6}$

2. نجد تقريب تآلفي للعدد $\sqrt{9,002}$.

لدينا : $f(a+h) \approx f(a) + hf'(a)$

ومنه : $f(9+0,002) \approx f(9) + 0,002 \times f'(9)$ ومنه : $f(9+0,002) \approx \sqrt{9} + 0,002 \times \frac{1}{6}$

إذن : $f(9+0,002) \approx 3,000333333$

نلاحظ : $\sqrt{9,002} \approx 3,000333333$ أم الآلة الحاسبة تعطي لنا : $\sqrt{9,002} \approx 3,000333315$ إذن الدقة ل 3×10^{-8}



4. ملحوظة :

- بالنسبة للدالة : $f(x) = x^2$ و $a = 1$ لدينا : $f(1+h) = (1+h)^2 \approx 1+2h$
- بالنسبة للدالة : $f(x) = x^3$ و $a = 1$ لدينا : $f(1+h) = (1+h)^3 \approx 1+3h$
- بالنسبة للدالة : $f(x) = \sqrt{x}$ و $a = 1$ لدينا : $f(1+h) = \sqrt{1+h} \approx 1 + \frac{h}{2}$
- بالنسبة للدالة : $f(x) = \frac{1}{x}$ و $a = 1$ لدينا : $f(1+h) = \frac{1}{1+h} \approx 1-h$

III. الاشتقاق على اليمين – الاشتقاق على اليسار .

A. العدد المشتق على اليمين – على اليسار :

1. نشاط :

f دالة عددية معرفة ب: $\begin{cases} f(x) = 2x+1 ; x \geq 1 \\ f(x) = 3x^2 ; x < 1 \end{cases}$. أحسب ما يلي : $\lim_{x \rightarrow 1^-} \frac{f(x)-f(1)}{x-1}$; $\lim_{x \rightarrow 1^+} \frac{f(x)-f(1)}{x-1}$

1. مفردات :

نقول إن f قابلة للاشتقاق على يمين 1 و العدد المشتق على اليمين هو: $f'_d(1) = 2$

نقول إن f قابلة للاشتقاق على يسار 1 و العدد المشتق على اليسار هو: $f'_g(1) = 6$. ومنه f غير قابلة للاشتقاق في 1.

(1) أعط تعريف للاشتقاق على اليمين ثم على اليسار في النقطة x_0 .

(2) أعط الخاصية التي تربط الاشتقاق و الاشتقاق على اليمين و على اليسار.

2. تعريف:

▪ f دالة عددية معرفة على $I_d = [x_0; x_0 + \alpha[$ (أي على يمين x_0)

نقول إن الدالة f قابلة للاشتقاق على يمين x_0 إذ وجد عدد حقيقي l_d حيث: $\lim_{x \rightarrow 0^+} \frac{f(x_0+h)-f(x_0)}{h} = l_d = f'_d(x_0)$

العدد $f'_d(x_0)$ يسمى العدد المشتق على اليمين في x_0 .

▪ f دالة عددية معرفة على $I_g =]x_0 - \alpha; x_0]$ (أي على يسار x_0)

نقول إن الدالة f قابلة للاشتقاق على يسار x_0 إذا وجد عدد حقيقي l_g حيث: $\lim_{x \rightarrow 0^-} \frac{f(x_0+h)-f(x_0)}{h} = l_g = f'_g(x_0)$

العدد $f'_g(x_0)$ يسمى العدد المشتق على اليسار في x_0 .

3. خاصية: التآويل الهندسي لنصفي المماس في x_0 :

f دالة عددية معرفة على مجال مفتوح I يحتوي على x_0 .

f دالة قابلة للاشتقاق في النقطة x_0 يكافئ f قابلة للاشتقاق على يمين و يسار x_0 و $f'_d(x_0) = f'_g(x_0)$

B. لتآويل الهندسي لنصفي المماس في x_0 :

1. معادلة نصف مماس على اليمين – على اليسار :



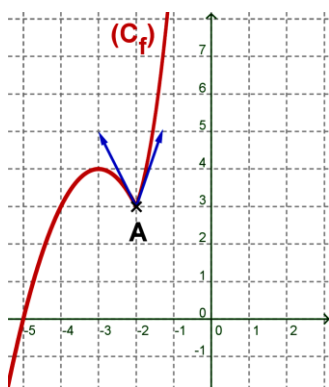
نأخذ : $\begin{cases} f(x) = (x+3)^3 + 2 & ; x \geq -2 \\ f(x) = -(x+3)^2 + 4 & ; x < -2 \end{cases}$ لدينا : $f'_g(-2) = -2$ و $f'_d(-2) = 3$

معادلتى نصفى المماس :

على اليمين : $(T_d) : y = (x - x_0)f'_d(x_0) + f(x_0)$ مع $x \geq x_0$

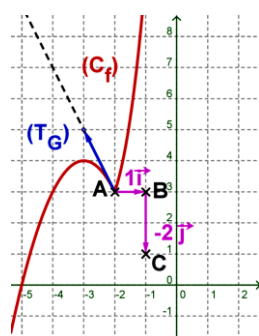
على اليسار : $(T_g) : y = (x - x_0)f'_g(x_0) + f(x_0)$ مع $x \leq x_0$

نصفى المماس فى -2 النقطة. A (-2, 3) نقطة مزواة



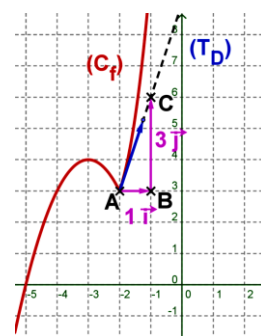
نصف المماس على يسار

-2



نصف المماس على يمين

-2



2. تمرين :

أدرس اشتقاق f فى $x_0 = 3$. $f(x) = |x-3|$

3. نصف مماس الموازي لمحور الأرتاب : $f(x) = \sqrt{(x+1)(+2)}$

أ- على يمين x_0 : حيث $\lim_{x \rightarrow (x_0)^+} f(x) = f(x_0)$ و $\lim_{x \rightarrow (x_0)^+} \frac{f(x) - f(x')}{x - x'} = \infty$

فهذه الحالة (C_f) له نصف مماس عمودي (أو موازي لمحور الأرتاب) على يمين النقطة $M(x_0, f(x_0))$. مثال $x \rightarrow -1^+$

ب- على يسار x_0 : حيث $\lim_{x \rightarrow (x_0)^-} f(x) = f(x_0)$ و $\lim_{x \rightarrow (x_0)^-} \frac{f(x) - f(x')}{x - x'} = \infty$

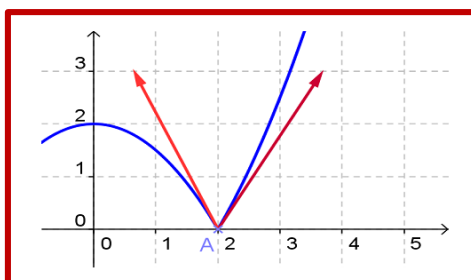
فهذه الحالة (C_f) له نصف مماس عمودي (أو موازي لمحور الأرتاب) على يسار النقطة $M(x_0, f(x_0))$. مثال $x \rightarrow -1^-$

4. نقطة مزواة :

الحالة التي يكون فيها نصفى مماس لنفس النقطة $A(x_0, f(x_0))$ ليس لهما نفس الحامل (ليس لهما نفس المعامل الموجه) فى هذه الحالة النقطة $A(x_0, f(x_0))$ تسمى نقطة مزواة .

مثال 1 : المثال السابق النقطة $A(-2, 3)$ هي نقطة مزواة (point anguleux) .

مثال 2 : النقطة $A(2, 0)$ هي نقطة مزواة :



IV. الاشتقاق على مجال :

1. مجال على شكل $[a, b]$ - على شكل $[a, b[$.



نقول إن دالة عددية f قابلة للاشتقاق على $I =]a; b[$ يكافئ أن f قابلة للاشتقاق في كل نقطة x_0 من I .
نقول إن دالة عددية f قابلة للاشتقاق على $]a; b[$ يكافئ : f قابلة للاشتقاق على $]a; b[$ و f قابلة للاشتقاق على يمين a .

٧. الدالة المشتقة لدالة عددية f :

1. تعريف:

f دالة عددية قابلة للاشتقاق على مجال I .
الدالة g التي تربط كل عنصر x من I بالعدد $f'(x)$ تسمى الدالة المشتقة ل f و نرسم لها ب $g = f'$
أو أيضا الدالة g المعرفة ب : $x \rightarrow g(x) = f'(x)$ تسمى الدالة المشتقة ل f على I ونرمز لها ب $g = f'$

2. نشاط:

حدد الدالة المشتقة ل f على $D_f = \mathbb{R}$ حيث $f(x) = c; (c \in \mathbb{R})$

3. خاصية :

f دالة عددية قابلة للاشتقاق على مجال I و f' الدالة المشتقة ل f على I .

- الدالة الثابتة : $f(x) = c; (c \in \mathbb{R})$ قابلة للاشتقاق على $I = \mathbb{R}$ و دالتها المشتقة على $I = \mathbb{R}$ هي $f'(x) = (c)' = 0$.
- الدالة التطبيقي المطابق على $\mathbb{R} : f(x) = x$ قابلة للاشتقاق على $I = \mathbb{R}$ و دالتها المشتقة على $I = \mathbb{R}$ هي $f'(x) = (x)' = 1$.
- الدالة المربع : $f(x) = x^2$ قابلة للاشتقاق على $I = \mathbb{R}$ و دالتها المشتقة على $I = \mathbb{R}$ هي $f'(x) = (x^2)' = 2x$.
- الدالة المكعب : $f(x) = x^3$ قابلة للاشتقاق على $I = \mathbb{R}$ و دالتها المشتقة على $I = \mathbb{R}$ هي $f'(x) = (x^3)' = 3x^2$.
- الدالة الحدية من الدرجة $n : f(x) = x^n$ قابلة للاشتقاق على $I = \mathbb{R}$ و دالتها المشتقة على $I = \mathbb{R}$ هي $f'(x) = (x^n)' = nx^{n-1}$.
- الدالة المقلوب : $f(x) = \frac{1}{x}$ قابلة للاشتقاق على $I = \mathbb{R} \setminus \{0\}$ و دالتها المشتقة على $I = \mathbb{R} \setminus \{0\}$ هي $f'(x) = \left(\frac{1}{x}\right)' = -\frac{1}{x^2}$.
- الدالة الجذر المربع : $f(x) = \sqrt{x}$ قابلة للاشتقاق على $I =]0; +\infty[$ و دالتها المشتقة على $I =]0; +\infty[$ هي $f'(x) = (\sqrt{x})' = \frac{1}{2\sqrt{x}}$.

٧. الدالة المشتقة الثانية – المشتقات المتتالية (أو المتتابعة) لدالة f .

1. نشاط:

(1) $f(x) = x$ هل f قابلة للاشتقاق على \mathbb{R} ثم أعط دالتها المشتقة f' ؟ (2) هل f' بدورها قابلة للاشتقاق على \mathbb{R} ؟

2. مفردات :

- المشتقة ل f' تسمى المشتقة الثانية ل f . نرسم لها ب : $(f'(x))' = f''(x) = f^{(2)}(x)$.
- إذا كانت $f^{(2)}$ بدورها قابلة للاشتقاق على I فدالتها المشتقة $(f^{(2)})'(x)$ تسمى المشتقة الثالثة ل f ونرمز لها ب $(f^{(2)})' = f^{(3)}$.

**3.** بصفة عامة :

المشتقة من الرتبة n للدالة f (أي $f^{(n)}(x)$) هي المشتقة ل $f^{(n-1)}(x)$ (أي المشتقة من الرتبة $n-1$) ونرمز لها ب:

$$f^{(n)}(x) = (f^{(n-1)})'(x)$$

4. مثال: أحسب $f^{(3)}(x)$ حيث : أ - $f(x) = x^5$ - ب - $f(x) = \frac{1}{x^2}$.

VII. العمليات على الدوال المشتقة :**1.** نشاط :

نتن g و f دالتين قابلتين للاشتقاق في x_0 .

(1) هل الدالة $f + g$ قابلة للاشتقاق في x_0 ؟

(2) الدالة $f \times g$ قابلة للاشتقاق على مجال I و دالتها المشتقة تحقق ما يلي : $(fg)'(x) = f'(x)g(x) + f(x)g'(x)$

استنتج اشتقاق الدالة af ثم $f^2 = f \times f$ ثم $f^3 = f \times f \times f$ ثم f^n

(3) الدالة $\frac{1}{g}$ قابلة للاشتقاق على مجال I . حيث : $\left(\frac{1}{g}\right)'(x) = -\frac{g'(x)}{g^2(x)}$ مع شرط $g(x) \neq 0$ على مجال I .

استنتج أن الدالة $\frac{f}{g}$ قابلة للاشتقاق على مجال I ثم استنتج كتابة للدالة المشتقة ل $\frac{f}{g}$.

(4) أعط الخصائص.

2. خصائص :

نتن f و g دالتين قابلتين للاشتقاق على مجال I .

الدالة $f + g$ قابلة للاشتقاق على مجال I و $(f + g)'(x) = f'(x) + g'(x)$

الدالة $f \times g$ قابلة للاشتقاق على مجال I و $(fg)'(x) = f'(x)g(x) + f(x)g'(x)$

الدالة $\frac{1}{g}$ قابلة للاشتقاق على مجال I و $\left(\frac{1}{g}\right)'(x) = -\frac{g'(x)}{g^2(x)}$ مع شرط $g(x) \neq 0$ على مجال I .

الدالة $\frac{f}{g}$ قابلة للاشتقاق على مجال I و $\left(\frac{f}{g}\right)'(x) = \frac{f'(x)g(x) - f(x)g'(x)}{g^2(x)}$ مع شرط $g(x) \neq 0$ على مجال I .

3. مثال: أحسب f' مع: (1) $f(x) = 7$ (2) $f(x) = x$ (3) $f(x) = 5x$ (4) $f(x) = 5x + 7$ (6) $f(x) = 3x^2 + 5x + 7$

VIII. اشتقاق الدوال : الحدودية - الجذرية - $g(x) = \sqrt{f(x)}$ - $f(ax + b) - f^n(x)$:**A.** اشتقاق الدوال الحدودية - الدوال الجذرية :**1.** خصائص :

- كل دالة حدودية قابلة للاشتقاق على مجموعة تعريفها $D_f = \mathbb{R}$. مع $(ax^n)' = nax^{n-1}$ و $n \in \mathbb{N}^*$.
- كل دالة جذرية قابلة للاشتقاق على مجموعة تعريفها D_f .

B. اشتقاق الدالة $f^n(x)$

1. خاصية:

f قابلة للاشتقاق على مجال I .
الدالة f^n ($n \in \mathbb{N}^*$) قابلة للاشتقاق على I ولدينا $(f^n)'(x) = n f^{n-1}(x) f'(x)$.
إذا كانت $f(x) \neq 0$ لكل x من I . الدالة f^p ($p \in \mathbb{Z}^*$) قابلة للاشتقاق على I ولدينا $(f^p)'(x) = p f^{p-1}(x) f'(x)$

2. مثال: $g(x) = (-2x^4 + 5x^2 + x - 3)^7$ نحسب $g'(x)$.

لدينا: $g'(x) = [(-2x^4 + x - 3)^7]' = 7(-2x^4 + x - 3)^6 (-2x^4 + x - 3)' = 7(-2x^4 + x - 3)^6 (-8x^3 + 1)$

C. اشتقاق الدوال التي على شكل $f(ax+b)$

1. خاصية:

f قابلة للاشتقاق على مجال I . a و b من \mathbb{R} . لتكن J مجموعة الأعداد الحقيقية x حيث $ax+b \in I$
الدالة $g: x \mapsto g(x) = f(ax+b)$ قابلة للاشتقاق على J . مع: $g'(x) = [f(ax+b)]' = a f'(ax+b)$ $\forall x \in J$

2. مثال: نضع $(\sin(x))' = \cos(x)$. أحسب: g' حيث $g(x) = \sin(5x+3)$.

D. اشتقاق الدوال التي على شكل $\sqrt{f(x)}$

1. خاصية:

f دالة موجبة قطعاً و قابلة للاشتقاق على مجال I .

الدالة $g(x) = \sqrt{f(x)}$ قابلة للاشتقاق على مجال I مع $\forall x \in I: (\sqrt{f(x)})' = \frac{f'(x)}{2\sqrt{f(x)}}$

مثال: $g(x) = \sqrt{x^6 + 5x^2 + 1}$. أحسب g' . لدينا $g'(x) = \frac{(x^6 + 5x^2 + 1)'}{2\sqrt{x^6 + 5x^2 + 1}} = \frac{(6x^5 + 10x)'}{2\sqrt{x^6 + 5x^2 + 1}}$

IX. اشتقاق الدوال المثلثية:

1. نشاط: نعتبر الدالة $f(x) = \cos(x)$.

(1) بين أن f قابلة للاشتقاق في x_0 من \mathbb{R} . (2) بين أن $g(x) = \sin(x)$ قابلة للاشتقاق في x_0 من \mathbb{R} .

(3) بين أن $g(x) = \tan(x)$ قابلة للاشتقاق في x_0 حيث $x_0 \neq \frac{\pi}{2} + k\pi$ $k \in \mathbb{Z}$ (4) أعط الخصائص.

1. خاصية:

- الدالة $f(x) = \cos(x)$ قابلة للاشتقاق على \mathbb{R} و $f'(x) = (\cos(x))' = -\sin(x)$.
- الدالة $f(x) = \sin(x)$ قابلة للاشتقاق على \mathbb{R} و $f'(x) = (\sin(x))' = \cos(x)$.
- الدالة $f(x) = \tan(x)$ قابلة للاشتقاق على $\mathbb{R} \setminus \left\{ \frac{\pi}{2} + k\pi ; k \in \mathbb{Z} \right\}$ و $f'(x) = (\tan(x))' = 1 + \tan^2(x)$.

2. نتائج:

$(\cos(ax+b))' = -a \sin(ax+b)$ و $(\sin(ax+b))' = a \cos(ax+b)$ و $(\tan(ax+b))' = a(1 + \tan^2(ax+b))$

مثال : احسب f' مع : $f(x) = 3\sin(9x+3) - 4\cos^3(8x-1) + 3\tan^6(7x+3)$

X جدول الدوال المشتقة للدوال الاعتيادية :

$D_{f'}$ مجموعة تعريف f'	الدالة المشتقة f'	D_f مجموعة تعريف f	الدالة f
$D_{f'} = \mathbb{R}$	$f'(x) = 0$	$D_f = \mathbb{R}$	$f(x) = a$
$D_{f'} = \mathbb{R}$	$f'(x) = 1$	$D_f = \mathbb{R}$	$f(x) = x$
$D_{f'} = \mathbb{R}$	$f'(x) = nx^{n-1}$	$D_f = \mathbb{R}$	$n \in \mathbb{N}^* \setminus \{1\}; f(x) = x^n$
$D_{f'} = \mathbb{R}^*$	$f'(x) = nx^{n-1}$	$D_f = \mathbb{R}$	$n \in \mathbb{Z}^* \setminus \{1\}; f(x) = x^n$
$D_{f'} =]0, +\infty[$	$f'(x) = \frac{1}{2\sqrt{x}}$	$D_f = [0, +\infty[$	$f(x) = \sqrt{x}$
$D_{f'} = \mathbb{R}^*$	$f'(x) = -\frac{1}{x^2}$	$D_f = \mathbb{R}^*$	$f(x) = \frac{1}{x}$
$D_{f'} = \mathbb{R}$	$f'(x) = \cos x$	$D_f = \mathbb{R}$	$f(x) = \sin x$
$D_{f'} = \mathbb{R}$	$f'(x) = -\sin x$	$D_f = \mathbb{R}$	$f(x) = \cos x$
$x \neq \frac{\pi}{2} + k\pi$	$f'(x) = 1 + \tan^2 x$	$x \neq \frac{\pi}{2} + k\pi; k \in \mathbb{Z}$	$f(x) = \tan x$
$x \in D_g / g(x) > 0$	$f'(x) = \frac{g'(x)}{2 \times \sqrt{g(x)}}$	$x \in D_g / g(x) \geq 0$	$f(x) = \sqrt{g(x)}$
$D_{f'} = \mathbb{R}$	$f'(x) = a \cos(ax+b)$	$D_f = \mathbb{R}$	$f(x) = \sin(ax+b)$
$D_{f'} = \mathbb{R}$	$f'(x) = -a \sin(ax+b)$	$D_f = \mathbb{R}$	$f(x) = \cos(ax+b)$
$ax+b \neq \frac{\pi}{2} + k\pi$	$f'(x) = a[1 + \tan^2(ax+b)]$	$ax+b \neq \frac{\pi}{2} + k\pi$	$f(x) = \tan(ax+b)$
$\mathbb{R} \setminus \left\{ \frac{-d}{c} \right\}; c \neq 0$	$f'(x) = \frac{\begin{vmatrix} a & b \\ c & d \end{vmatrix}}{(cx+d)^2}$	$\mathbb{R} \setminus \left\{ \frac{-d}{c} \right\}; c \neq 0$	$f(x) = \frac{ax+b}{cx+d}$

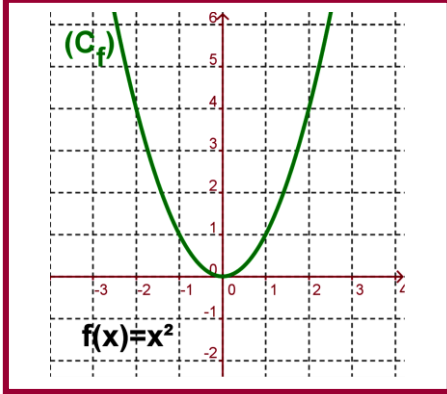
قواعد الاشتقاق :

$\left(\frac{1}{g}\right)' = -\frac{g'}{g^2}$	المقلوب	$(f+g)' = f' + g'$	الجمع
$\left(\frac{f}{g}\right)' = \frac{f'g - fg'}{g^2}$	الخارج	$(\alpha f)' = \alpha f'$ $(fg)' = f'g + fg'$	الجداء رقم 1 الجداء رقم 2
$(\sqrt{f})' = \frac{f'}{2\sqrt{f}}$	الجذر المربع	$(f^n)' = n \times f' \times f^{n-1}$ $(f(ax+b))' = af'(ax+b)$	القوى نوع آخر

XI المشتقة الأولى و تطبيقاتها:

ملحوظة:

في جميع الفقرات من هذا الدرس f دالة عددية للمتغير الحقيقي x . (C_f) منحناها في (m, m, m) معلم متعامد ممنظم (O, \vec{i}, \vec{j}) .

A. رتبة دالة عددية وإشارة f' :**1.** نشاط:الرسم الآتي يمثل منحنى الدالة $f(x) = x^2$ **(1)** لدينا f تزايدية على $[0, +\infty[$ أعط f' ثم إشارة f' .**(2)** ما هي رتبة f على $]-\infty, 0]$ أعط f' ثم إشارة f' .**(3)** أعط الخاصية؟ ثم الخاصية العكسية.**2.** خاصية:

f دالة قابلة للاشتقاق على مجال I .

▪ إذا كانت f تزايدية على I فإن $\forall x \in I : f'(x) \geq 0$.

▪ إذا كانت f تناقصية على I فإن $\forall x \in I : f'(x) \leq 0$.

▪ إذا كانت f ثابتة على I فإن $\forall x \in I : f'(x) = 0$.

3. برهان:

• نعتبر الحالة 1: f دالة قابلة للاشتقاق على مجال I و f تزايدية على I .

ليكن x_0 من I نعتبر الدالة $g : x \in I \setminus \{x_0\} \rightarrow \mathbb{R} ; g(x) = \frac{f(x) - f(x_0)}{x - x_0}$ بمأن f تزايدية على I إذن $g(x) = \frac{f(x) - f(x_0)}{x - x_0} \geq 0$

بمأن f دالة قابلة للاشتقاق على مجال I و x_0 من I إذن f قابلة للاشتقاق في x_0 وبالتالي $g(x)$ لها نهاية منتهية في x_0 و منه

$$\lim_{x \rightarrow x_0} g(x) = \lim_{x \rightarrow x_0} \frac{f(x) - f(x_0)}{x - x_0} = f'(x_0) \geq 0 \quad (\text{خاصيات النهايات و الترتيب}).$$

و بمأن ذلك لكل x_0 من I فإن: $\forall x_0 \in I : f'(x_0) \geq 0$

خلاصة: $\forall x \in I : f'(x) \geq 0$.

• نعتبر الحالة 2: f دالة قابلة للاشتقاق على مجال I و f تناقصية على I .

بنفس الطريقة نبين على صحة ذلك.

4. خاصية: (تقبل)

f قابلة للاشتقاق على مجال I .

▪ إذا كانت f' موجبة قطعاً على I (يمكن للدالة f' أن تنعدم في نقط منعزلة من I وهذا لا يؤثر على رتبة f) فإن f تزايدية قطعاً على I

▪ إذا كانت f' سالبة قطعاً على I (يمكن للدالة f' أن تنعدم في نقط منعزلة من I) فإن f تناقصية قطعاً على I .

▪ إذا كانت f' منعدمة على I (على I بكامله) فإن f ثابتة على I .

5. مثال:

أدرس تغيرات f على \mathbb{R} مع $f(x) = (2x+4)^2$.

$$\text{(1) حساب } f' : \text{ لدينا } f'(x) = [(2x+4)^2]'$$

$$= 2(2x+4)'(2x+4) = 2 \times 2(2x+4) = 8x+16$$

(2) إشارة f' : لدينا $f'(x) \geq 0 \Leftrightarrow 8x+16 \geq 0$

$$\Leftrightarrow x \geq -2$$

إذن: f' موجب على $[-2, +\infty[$ و سالب على $]-\infty, -2]$

(3) جدول تغيرات f :

B. مطراف دالة عديدة قابلة للاشتقاق.

I. نشاط:

المنحنى الآتي يمثل دالة قابلة للاشتقاق

على مجال مفتوح I. ا عنصر من I.

(1) هل f تقبل مطراف في a ؟

(2) أعط قيمة ل $f'(a)$.

(3) أعط الخاصية.

2. خاصية:

f دالة قابلة للاشتقاق على مجال مفتوح I. ا عنصر من I.

إذا كانت f قابلة للاشتقاق في النقطة a و تقبل مطراف في النقطة a فإن $f'(a) = 0$.

3. ملحوظة:

إذا كان $f'(a) = 0$ فهذا لا يعني بالضرورة أن f مطراف للدالة f .

4. مثال:

$$f(x) = 2x^3 \text{ لدينا } f'(x) = 6x^2 \text{ ومنه } f'(0) = 0$$

ولكن $f(0)$ ليس مطراف ل f .

5. خاصية:

f دالة قابلة للاشتقاق على مجال مفتوح I. ا عنصر من I

إذا كانت f' تنعدم في النقطة a و f' تتغير إشارتها بجوار a فإن f مطراف ل f .

XII معادلة تفاضلية على شكل $y'' + \omega^2 y = 0$:

1. تقديم:

في هذه الفقرة نرمز لدالة f ب y و f' ب y' و f'' ب y''

الكتابة التالية: $5y'' - 3y' + 7y + 2 = 0$ (E) تسمى معادلة تفاضلية من الدرجة 2 (أو من الرتبة 2). الأعداد 5 و -3 و 7 و 2 تسمى

معاملات ثابتة للمعادلة التفاضلية (E). بمأن الطرف الثاني للمعادلة منعدم نقول أن المعادلة بدون طرف ثاني.

2. مثال: $y'' + 4y = 0$ هي معادلة تفاضلية من الدرجة الثانية بدون طرف ثاني معاملاتها ثابتة وهي 1 و 4.

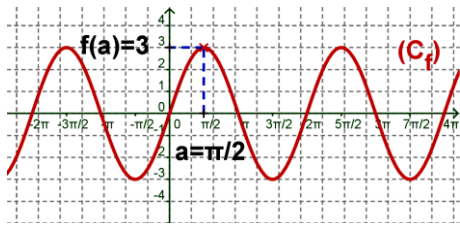
3. تعريف:

ليك ω من \mathbb{R} . دالة y و y'' مشتقتها الثانية.

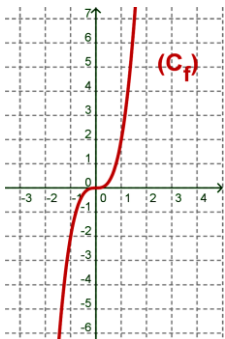
المعادلة $y'' + \omega^2 y = 0$ ذات المجهول y تسمى معادلة تفاضلية من الرتبة الثانية بدون طرف ثاني. كل دالة f قابلة للاشتقاق مرتين على

\mathbb{R} و تحقق المتساوية $f''(x) + \omega^2 f(x) = 0 \quad \forall x \in \mathbb{R}$ تسمى حلا للمعادلة التفاضلية $y'' + \omega^2 y = 0$.

x	$-\infty$	-2	$+\infty$
f'	-	0	+
f	$+\infty$	$f(-2) = 0$	$+\infty$



الدالة $f(x) = 2x^3$



4. مثال:

$$y'' + 9y = 0 \text{ هي معادلة تفاضلية.}$$

5. خاصية :

الحل العام للمعادلة التفاضلية $y'' + \omega^2 y = 0$ هو مجموعة الدوال المعرفة كما يلي : $y : x \mapsto \alpha \cos \omega x + \beta \sin \omega x$ حيث α و β من \mathbb{R} .

6. ملحوظة:

حل المعادلة التفاضلية $y'' + \omega^2 y = 0$ يعني تحديد الحل العام لهذه المعادلة.

7. مثال:

نحل المعادلة التفاضلية $y'' + 9y = 0$. لدينا $\omega = 3$ أو $\omega = -3$ ومنه الحل العام لهذه المعادلة التفاضلية هو مجموعة الدوال التي على شكل : $y(x) = \alpha \cos 3x + \beta \sin 3x$ مع α و β من \mathbb{R} .

8. حالة خاصة:

$y'' = 0$ إذن $y' = 0$ هي دالة ثابتة إذن y هي على شكل $y(x) = ax + b$; a و b من \mathbb{R} .

9. مثال: نحدد الدالة f التي تحقق المعادلة التفاضلية: $y'' + 16y = 0$ حيث $f(0) = 1$ و $f\left(\frac{\pi}{8}\right) = 1$

الحل العام للمعادلة التفاضلية (E) هو على شكل : $y(x) = \alpha \cos 4x + \beta \sin 4x$.
لدينا :

$$\begin{cases} f(0) = 1 \\ f\left(\frac{\pi}{8}\right) = 1 \end{cases} \Leftrightarrow \begin{cases} \alpha \cos(4 \times 0) + \beta \sin(4 \times 0) = 1 \\ \alpha \cos\left(4 \times \frac{\pi}{8}\right) + \beta \sin\left(4 \times \frac{\pi}{8}\right) = 1 \end{cases} \\ \Leftrightarrow \begin{cases} \alpha = 1 \\ \beta = 1 \end{cases}$$

خلاصة : الحل العام هو الدوال التي على شكل : $f(x) = y(x) = \cos 4x + \sin 4x$

XIII. OPTIMISATION (تحديد أفضل الاختيارات أو أحسن الأجوبة ممكنة لوضعيات معطاة) . تقديم 1 :

Optimiser : du latin **optimum** qui signifie le meilleur

- هي : تسمح لنا للحصول على أحسن الاختيار أو أفضل النتائج الممكنة عن طريق عمل ملائم لوضعية معطاة .
- في الرياضيات : **Optimiser une situation** يتطلب لتحليل و لإدراج هذه الوضعية على شكل دالة ثم تحديد المطراف التي تعطي أفضل و أحسن الاختيارات للإجابة عن السؤال .

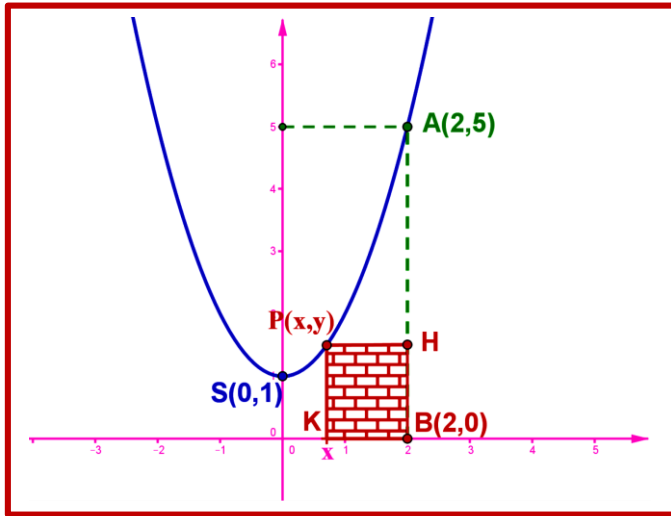
تقديم 2 :

هناك كثير من المسائل من الحياة العامة تدفعنا لتحديد القيم القصوية أو القيم الدنياوية مرتبطة بكمية متغيرة . حيث هذه القيم تمثل الأفضل أو الأحسن للوضعية المطروحة أو المسألة المطروحة نسمي هذه القيم : **القيم الأحسن « valeurs Optimales »** .

تحديد هذه القيم يمثل **تمرين** أو **مسألة « optimisation »**

مثال 1:

الشكل التالي يمثل شلجم رأسه $S(0,1)$ ويمر من النقطة $A(2,5)$ ثم نعتبر النقطة $B(2,0)$



1. حدد معادلة الشلجم .

2. نقطة $P(x,y)$ تنتمي إلى منحنى الشلجم حيث $0 \leq x < 2$ ؛

- نعتبر النقطة H المسقط العمودي للنقطة P على المستقيم (AB).
- نعتبر النقطة K المسقط العمودي للنقطة P على محور الأفاصل .

أ- حدد مساحة المستطيل PHBK بدلالة x

ب- حدد أفصول النقطة $P(x,y)$ من الشلجم حيث :

مساحة المستطيل PHBK تكون قصوية ؟

3. حدد المساحة القصوية للمستطيل PHBK .

مثال 2 : (بعد)